
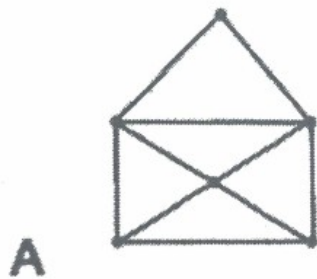


# Enigme n°1 :

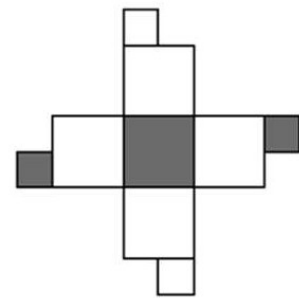
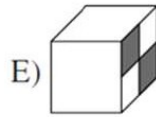
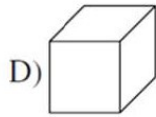
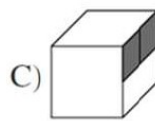
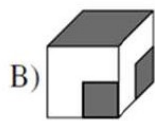
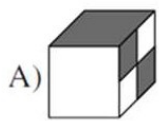
Parmi les quatre maison A, B, C et D que voici, **quelles sont celles que vous pouvez dessiner d'un seul coup de crayon ?**

(avec interdiction de repasser deux fois sur le même trait)



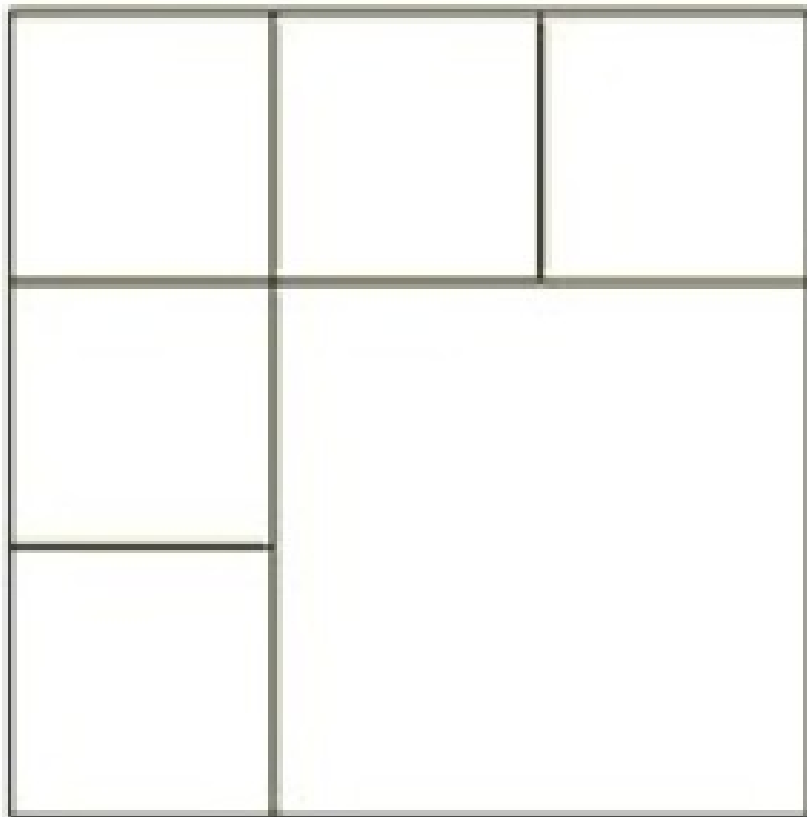
# Enigme n°2 :

Un de ces cubes correspond à celui qui est représenté déplié. Lequel ?



## Enigme n°3 :

Quel est le nombre de quadrilatères sur cette image ?



## Enigme n°4 :



Un escargot

décide d'atteindre le toit d'une maison.

Le mur fait 10 mètres de haut.

L'escargot monte pendant la journée de trois mètres, mais la nuit, il glisse et redescend de deux mètres.

En combien de temps parvient-il sur le toit ?

SOLUTIONS PAGE  
SUIVANTE

Enigme 1 : A et D

Enigme 2 : E

Enigme 3 : 15

Enigme 4 : 8 jour (soir du huitième jour)