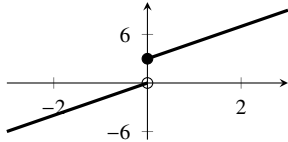


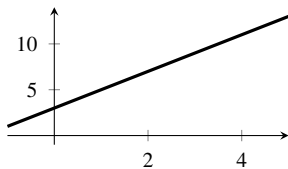
S'agit-il d'une situation de proportionnalité ? Pour chaque exemple, coche ☐ Oui ou ☐ Non, puis justifie.

1. Graphique 1



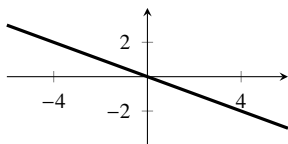
☐ Oui ☐ Non Justification :

2. Graphique 2.



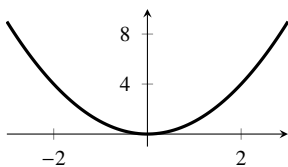
☐ Oui ☐ Non Justification :

3. Graphique 3.



☐ Oui ☐ Non Justification :

4. Graphique 4.



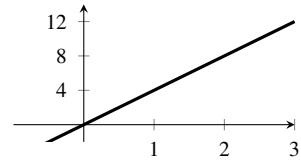
☐ Oui ☐ Non Justification :

5. Tableau 5 : Prix des pommes à 3,50 par kg.

Masse (kg)	0	1	2	3
Prix (€)	0	3,50	7,00	10,50

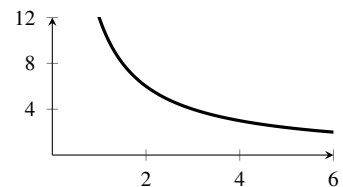
☐ Oui ☐ Non Justification :

6. Graphique 6 :



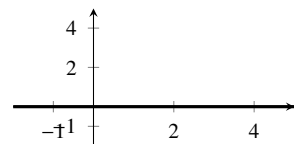
☐ Oui ☐ Non Justification :

7. Graphique 7.



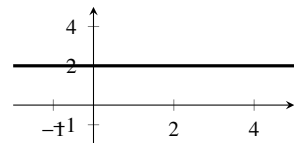
☐ Oui ☐ Non Justification :

8. Graphique 8.



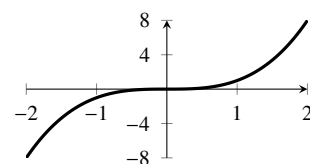
☐ Oui ☐ Non Justification :

9. Graphique 9.



☐ Oui ☐ Non Justification :

10. Graphique 10 :



☐ Oui ☐ Non Justification :